



## UÇAKLA YOLCULUĞUN EŞSİZ TADI

Benim için uçakla yolculuk yapmanın tadı bir başkadır. Havaalanına gitmek, uçak saatini beklemek, bavulları teslim etmek, güvenlik kontrolleri.. Hiçbiri beni yormaz. Koltuğuma oturup, kemerimi taktığımda tüm bu koşuşturmaya değdiğini hissedirim. Uçak yükselirken, içimdeki heyecandan ellerimin terlediğini de itiraf edeyim. **Ayaklarım yerden kesilir, şehri kuşbakışı seyrederim.** Sonra şehir de görünmez olur. Uçak bulutların arasına daldıkça çocukluğuma dönerim. Buluttan buluta zıplamayı hayal ettiğim günlere. Çocukluğum kucaklar beni. Hele de uçuşum güneşin doğu



şuna denk düşerse değmeyin keyfime. Güneşin ilk ışıkları, uçağın penceresinden süzülüp ruhuma dolar. Evrene olan hayranlığım depreşir.

Önceleri çok merak ederdim. Bu kocaman demir yığını, içinde onlarca yolcu, tonlarca yük ile nasıl havada kalıyor? Yer çekiminden nasıl oluyor da etkilenmiyor? Topu havaya atınca yere düşüyor da uçak havada kalmayı nasıl başarıyor? Sorular sorular sorular... Aklıma kuşlar gelirdi hep. 'Onlar da uçabiliyor. Aralarında bir benzerlik olmalı.' diye düşünürdüm. Çünkü uçakları kuşlara benzetiyorum.

Şimdi bu soruların cevabını biliyorum. Hem cevabı bulduğumdan beri yolculuklarım daha keyifli geçiyor. Ben uçakla yolculuk yapmayı çok seviyorum. Siz de seviyorsanız kesinlikle araştırmalısınız. Keyifli uçuşlar dilerim.

Tülin Aygöl ÇINAR



## Okuyalım - Anlayalım



Aşağıdaki kelimeleri, sözlük anlamları ile eşleştirelim.

Kuşbakışı

Yüksek bir yerden aşağıya doğru, bütün genişliği görecektir şekilde bakış.

Evren

Yeniden ortaya çıkmak, belirlemek.

Depreşmek

Sonsuz uzay ve uzayın içindeki gök cisimlerinin tümü.

Metnin konusunu yazalım.

Metne farklı iki başlık yazalım.

1. ....  
2. ....



Metinde renkli yazılan cümlelere göre soruları kısaca cevaplayalım.

Soru

Kahramanımız şehri  
nasıl seyredermiş?

Cevap



.....

Soru

Uçağın penceresinden  
süzülen neymiş?

Cevap



.....

Soru

Topu havaya atınca  
nereye düşüyormuş?

Cevap



.....

Soru

Kahramanımız uçakları  
neye benzetiyor?

Cevap



.....



## Eş Anlamlı Kelimeler



Aşağıdaki kelimelerin eş anlamlılarını tahtadan bularak karşlarına yazalım.



rüzgâr

kalp

sene

siyah

soru

mektep

hikâye

rüya

öğretmen

doğa

öğrenci

misafir

konut

hekim

ırmak

cevap

yemek

fayda

ihtiyar

ıslak




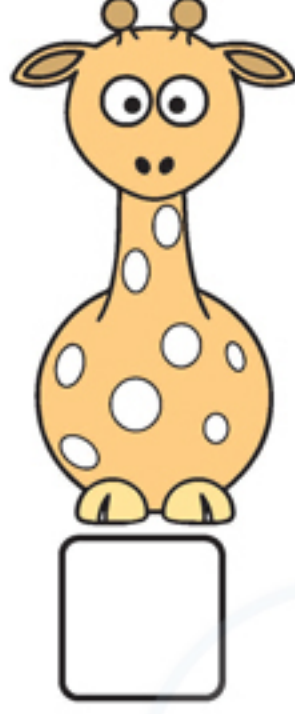
hediye





## Simetrik Şekilleri Bulalım



Aşağıda simetrik olan şekilleri işaretleyelim. Bu şekilleri çizgi çizerek iki eş parçaya ayıralım.



Aşağıdaki şekilleri, simetri çizgisine göre yıldızlar boyayarak tamamlayalım.





## Çarpma İşlemi Yapalım



Aşağıdaki çarpma işlemlerini yapalım. Sonuçlarının bulunduğu balonu boyayalım.

$$\begin{array}{r} 8 \\ 10 \\ 12 \end{array} \begin{array}{r} 5 \\ \times 2 \\ \hline 10 \\ \dots\dots \end{array}$$

$$\begin{array}{r} 21 \\ 24 \\ 27 \end{array} \begin{array}{r} 7 \\ \times 3 \\ \hline \dots\dots \end{array}$$

$$\begin{array}{r} 18 \\ 15 \\ 12 \end{array} \begin{array}{r} 3 \\ \times 4 \\ \hline \dots\dots \end{array}$$

$$\begin{array}{r} 35 \\ 40 \\ 45 \end{array} \begin{array}{r} 8 \\ \times 5 \\ \hline \dots\dots \end{array}$$

$$\begin{array}{r} 24 \\ 28 \\ 32 \end{array} \begin{array}{r} 6 \\ \times 4 \\ \hline \dots\dots \end{array}$$

$$\begin{array}{r} 30 \\ 40 \\ 50 \end{array} \begin{array}{r} 10 \\ \times 5 \\ \hline \dots\dots \end{array}$$

$$\begin{array}{r} 16 \\ 18 \\ 20 \end{array} \begin{array}{r} 9 \\ \times 2 \\ \hline \dots\dots \end{array}$$

$$\begin{array}{r} 25 \\ 30 \\ 35 \end{array} \begin{array}{r} 5 \\ \times 7 \\ \hline \dots\dots \end{array}$$

$$\begin{array}{r} 24 \\ 27 \\ 30 \end{array} \begin{array}{r} 9 \\ \times 3 \\ \hline \dots\dots \end{array}$$

$$\begin{array}{r} 25 \\ 20 \\ 15 \end{array} \begin{array}{r} 5 \\ \times 4 \\ \hline \dots\dots \end{array}$$

$$\begin{array}{r} 28 \\ 24 \\ 20 \end{array} \begin{array}{r} 4 \\ \times 7 \\ \hline \dots\dots \end{array}$$

$$\begin{array}{r} 8 \\ 12 \\ 16 \end{array} \begin{array}{r} 4 \\ \times 4 \\ \hline \dots\dots \end{array}$$

$$\begin{array}{r} 18 \\ 16 \\ 14 \end{array} \begin{array}{r} 2 \\ \times 9 \\ \hline \dots\dots \end{array}$$

$$\begin{array}{r} 1 \\ 8 \\ 18 \end{array} \begin{array}{r} 8 \\ \times 1 \\ \hline \dots\dots \end{array}$$

$$\begin{array}{r} 18 \\ 15 \\ 12 \end{array} \begin{array}{r} 3 \\ \times 6 \\ \hline \dots\dots \end{array}$$

$$\begin{array}{r} 0 \\ 1 \\ 6 \end{array} \begin{array}{r} 6 \\ \times 0 \\ \hline \dots\dots \end{array}$$




## Mevsiminde Yiyoruz, Mevsime Uygun Giyiniyoruz



Aşağıdaki meyve, sebze ve kıyafetlerin altına hangi mevsime (yaz veya kış) ait olduğunu yazalım.



Yaz





## Kodlama Yapalım



Kırmızı noktadan başlayarak yönergeleri takip edelim.  
Gizli resmi bulalım.

